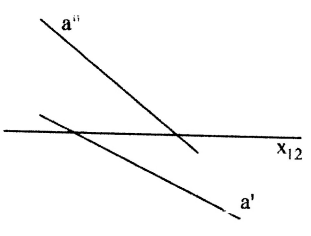
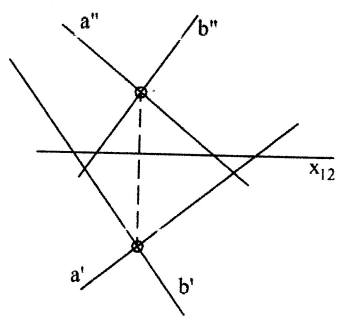


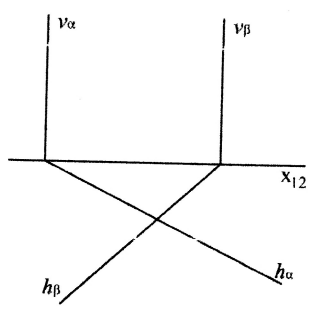
1) 2/1
znajdź ślady prostej $a(a', a'')$ oraz punkty $Ha(Ha', Ha'')$, $Va(Va', Va'')$



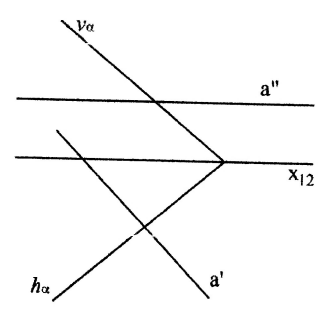
znajdź ślady płaszczyzny α



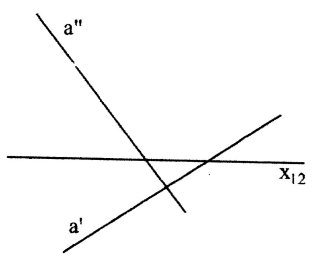
2/2
znajdź krawędź między płaszczyznami α i β



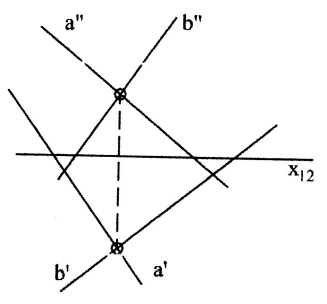
znajdź punkt przecięcia płaszczyzny α prostą a



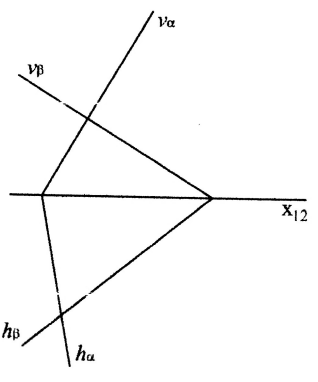
2) 2/1
znajdź ślady prostej $a(a', a'')$ oraz punkty $Ha(Ha', Ha'')$, $Va(Va', Va'')$



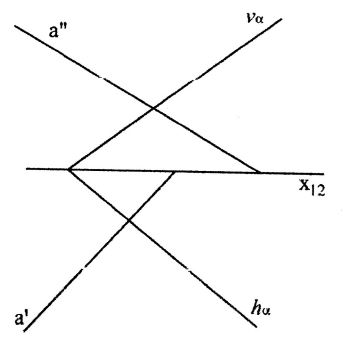
znajdź ślady płaszczyzny α



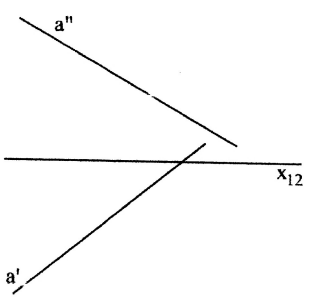
2/2
znajdź krawędź między płaszczyznami α i β



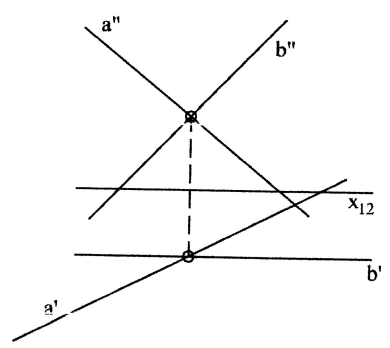
znajdź punkt przecięcia płaszczyzny α prostą a



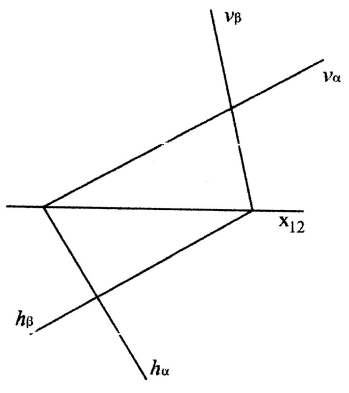
3) 2/1
znajdź ślady prostej $a(a', a'')$ oraz punkty $Ha(Ha', Ha'')$, $Va(Va', Va'')$



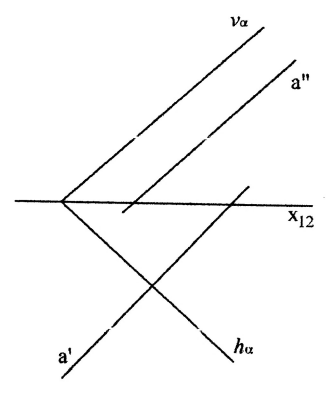
znajdź ślady płaszczyzny α



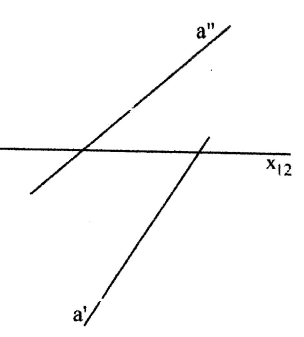
2/2
znajdź krawędź między płaszczyznami α i β



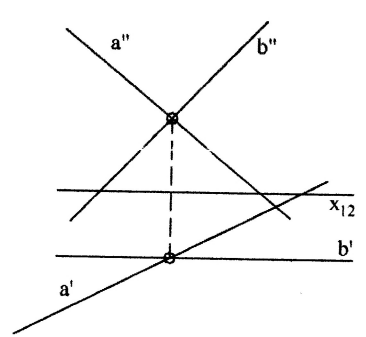
znajdź punkt przecięcia płaszczyzny α prostą a



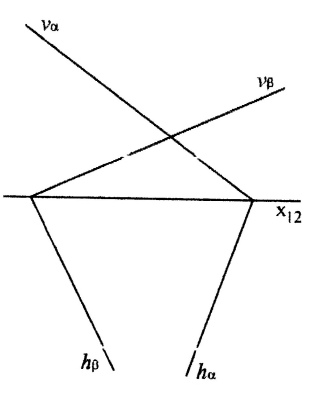
4) 2/1
znajdź ślady prostej $a(a', a'')$ oraz punkty $Ha(Ha', Ha'')$, $Va(Va', Va'')$



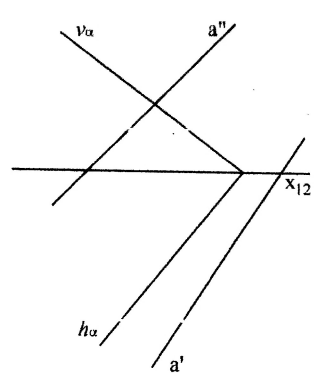
znajdź ślady płaszczyzny α



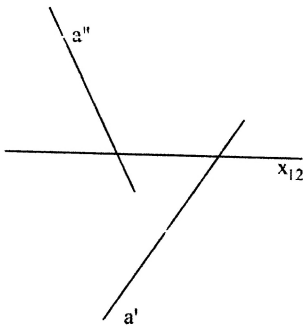
2/2
znajdź krawędź między płaszczyznami α i β



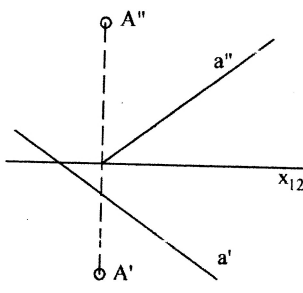
znajdź punkt przecięcia płaszczyzny α prostą a



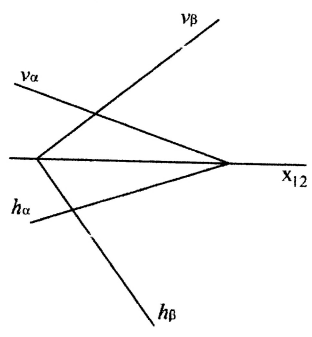
5) 2/1
znajdź ślady prostej $a(a', a'')$ oraz punkty $Ha(Ha', Ha''), Va(Va', Va'')$



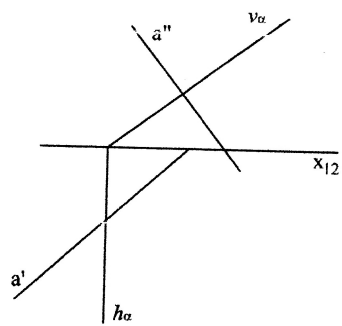
znajdź ślady płaszczyzny α



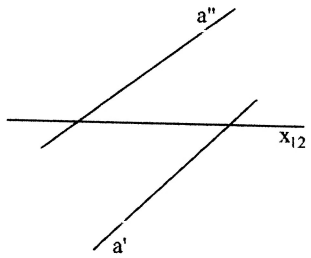
2/2
znajdź krawędź między płaszczyznami α i β



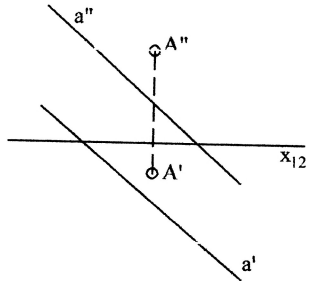
znajdź punkt przecięcia płaszczyzny α prostą a



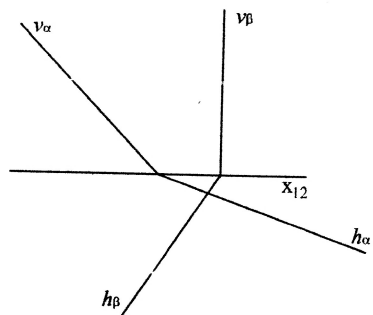
6) 2/1
znajdź ślady prostej $a(a', a'')$ oraz punkty $Ha(Ha', Ha''), Va(Va', Va'')$



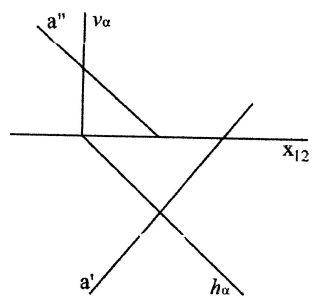
znajdź ślady płaszczyzny α



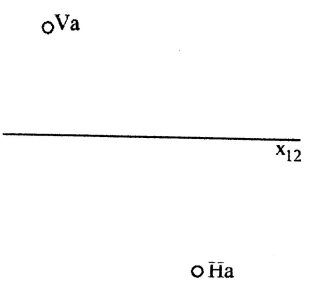
2/2
znajdź krawędź między płaszczyznami α i β



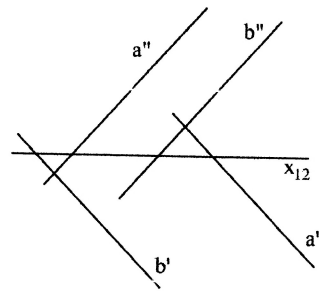
znajdź punkt przecięcia płaszczyzny α prostą a



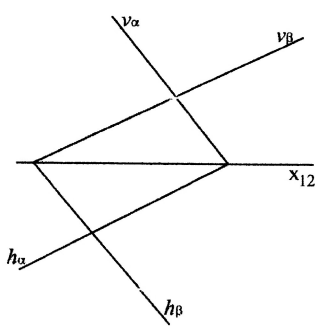
7) 2/1
znajdź ślady prostej $a(a', a'')$ oraz punkty $Ha(Ha', Ha''), Va(Va', Va'')$



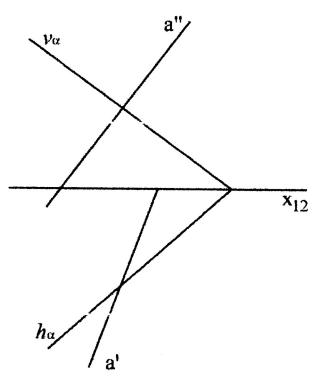
znajdź ślady płaszczyzny α



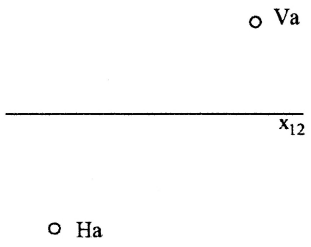
2/2
znajdź krawędź między płaszczyznami α i β



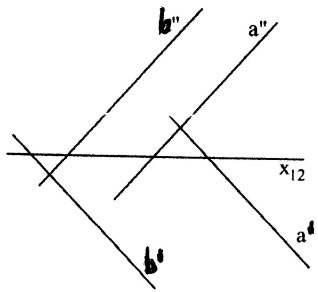
znajdź punkt przecięcia płaszczyzny α prostą a



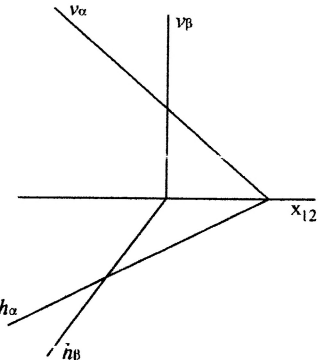
8) 2/1
znajdź ślady prostej $a(a', a'')$ oraz punkty $Ha(Ha', Ha''), Va(Va', Va'')$



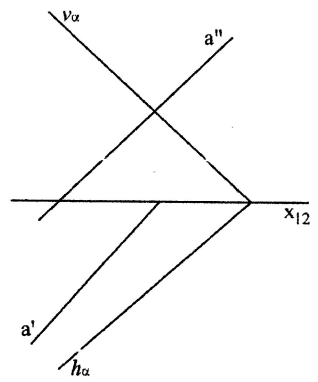
znajdź ślady płaszczyzny α



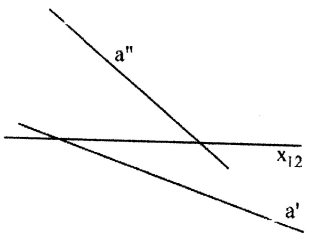
2/2
znajdź krawędź między płaszczyznami α i β



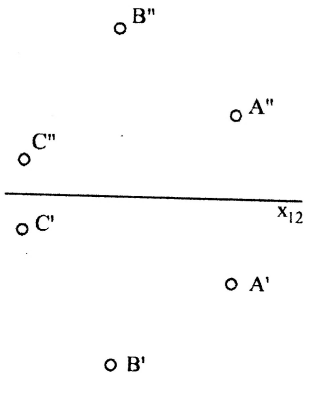
znajdź punkt przecięcia płaszczyzny α prostą a



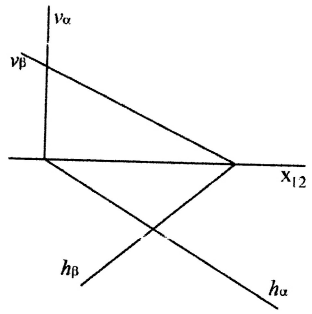
9) 2/1
znajdź ślady prostej $a(a', a'')$ oraz punkty $Ha(Ha', Ha'')$, $Va(Va', Va'')$



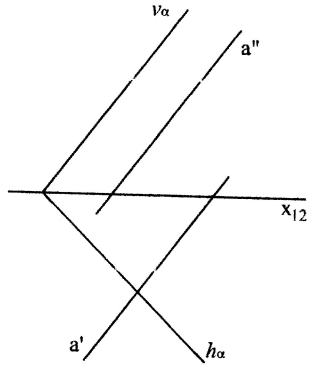
znajdź ślady płaszczyzny α



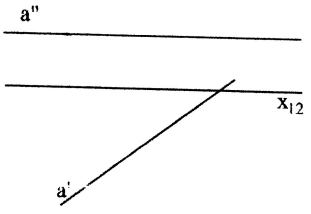
2/2
znajdź krawędź między płaszczyznami α i β



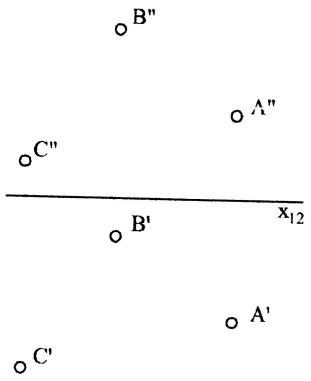
znajdź punkt przecięcia płaszczyzny α prostą a



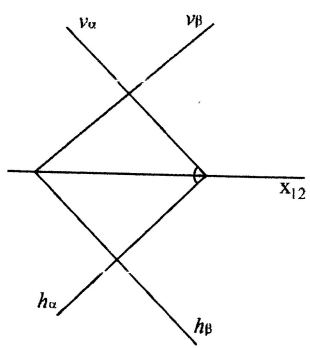
10) 2/1
znajdź ślady prostej $a(a', a'')$ oraz punkty $Ha(Ha', Ha'')$, $Va(Va', Va'')$



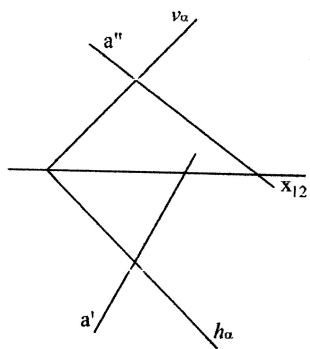
znajdź ślady płaszczyzny α



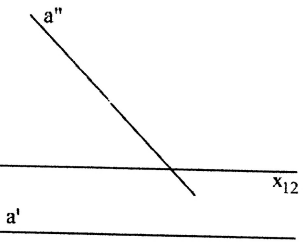
2/2
znajdź krawędź między płaszczyznami α i β



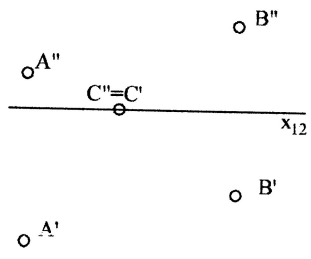
znajdź punkt przecięcia płaszczyzny α prostą a



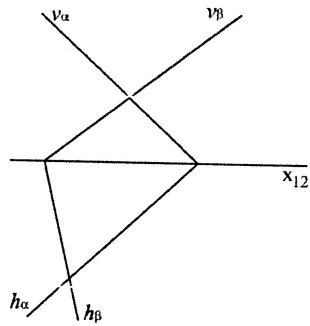
11) 2/1
znajdź ślady prostej $a(a', a'')$ oraz punkty $Ha(Ha', Ha'')$, $Va(Va', Va'')$



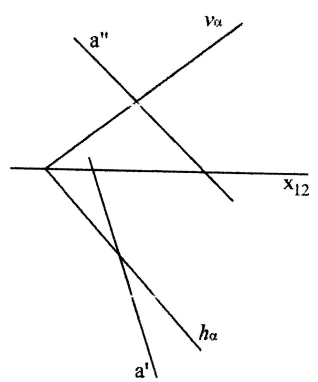
znajdź ślady płaszczyzny α



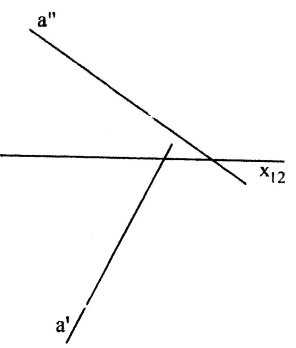
2/2
znajdź krawędź między płaszczyznami α i β



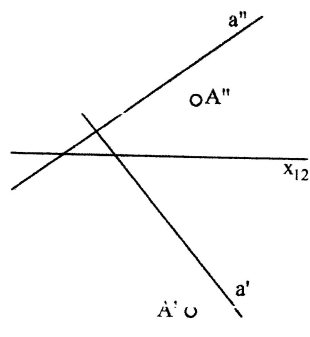
znajdź punkt przecięcia płaszczyzny α prostą a



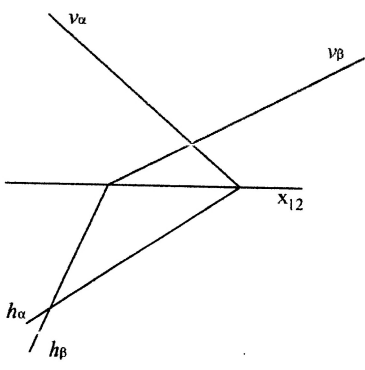
2) 2/1
znajdź ślady prostej $a(a', a'')$ oraz punkty $Ha(Ha', Ha'')$, $Va(Va', Va'')$



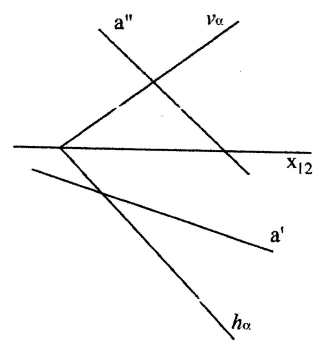
znajdź ślady płaszczyzny α



2/2
znajdź krawędź między płaszczyznami α i β

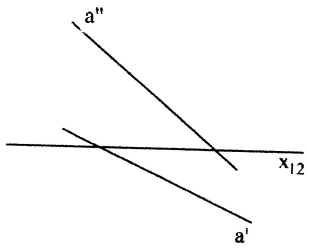


znajdź punkt przecięcia płaszczyzny α prostą a

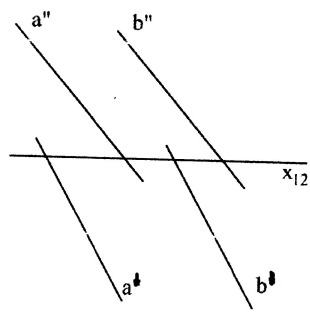


13) 2/1

znajdź ślady prostej $a(a', a'')$ oraz punkty $Ha(Ha', Ha'')$, $Va(Va', Va'')$

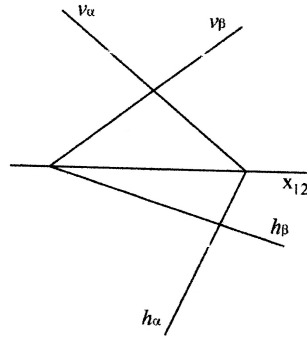


znajdź ślady płaszczyzny α

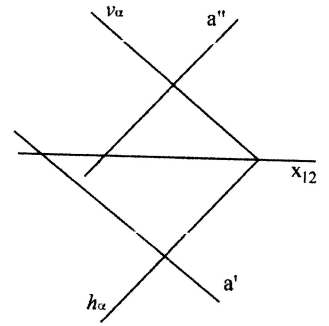


2/2

znajdź krawędź między płaszczyznami α i β

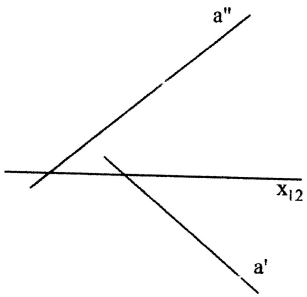


znajdź punkt przecięcia płaszczyzny α prostą a

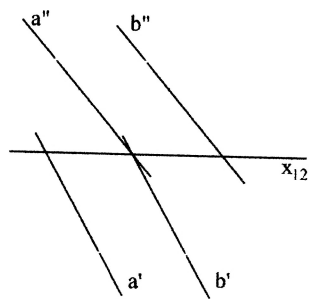


14) 2/1

znajdź ślady prostej $a(a', a'')$ oraz punkty $Ha(Ha', Ha'')$, $Va(Va', Va'')$

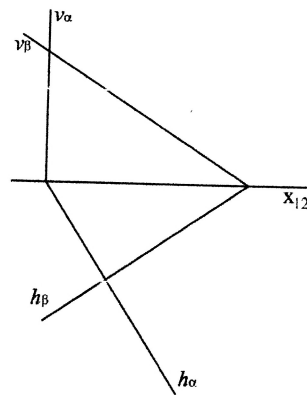


znajdź ślady płaszczyzny α



2/2

znajdź krawędź między płaszczyznami α i β



znajdź punkt przecięcia płaszczyzny α prostą a

